



سَلْطَنَةُ عُومَانِ  
وَفَاءَةُ الدِّينِ وَالتَّعْلِيمِ

## امتحان مادة الفيزياء للصف الحادي عشر

للعام الدراسي: ١٤٤٤ هـ - ٢٠٢٢/٢٠٢٣ م

الدور: الثاني - الفصل الدراسي: الثاني

\* عدد صفحات الأسئلة: ١١ صفحة.

\* تُكتب الإجابة بالقلم الأزرق أو الأسود.

\* زمن الامتحان: ساعتان ونصف.

\* الإجابة في دفتر الأسئلة نفسه.


اسم الطالب: \_\_\_\_\_ الصف: \_\_\_\_\_

رقم الصفحة	المفردة	الدرجة	اسم المصحح	اسم المراجع
١	٤-١			
٢	٤-٣			
٣	٥			
٤	٧-٦			
٥	٩-٨			
٦	١٠			
٧	١٢-١١			
٨	١٤-١٣			
٩	١٥			
١٠	١٧-١٦			
١١	١٩-١٨			
المجموع			جمعه:	راجع الجمع:
المجموع بالحروف				درجة/درجات فقط.

أجب عن جميع الأسئلة الآتية

١. ما العوامل التي تعتمد عليها كمية التحرك؟ (ظلل الإجابة الصحيحة) [١] ( )
- القوة والمسافة التي يقطعها الجسم.
- الكتلة والسرعة المتجهة التي يتحرك بها الجسم
- معدل التغير في السرعة المتجهة.
- السرعة المتجهة التي يتحركها الجسم.

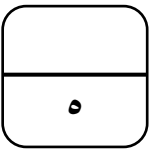
٢. الشكل (١-٢) يوضح دراجتين متماثلتين في الكتلة (A و B) تتحركان في طريق ما.



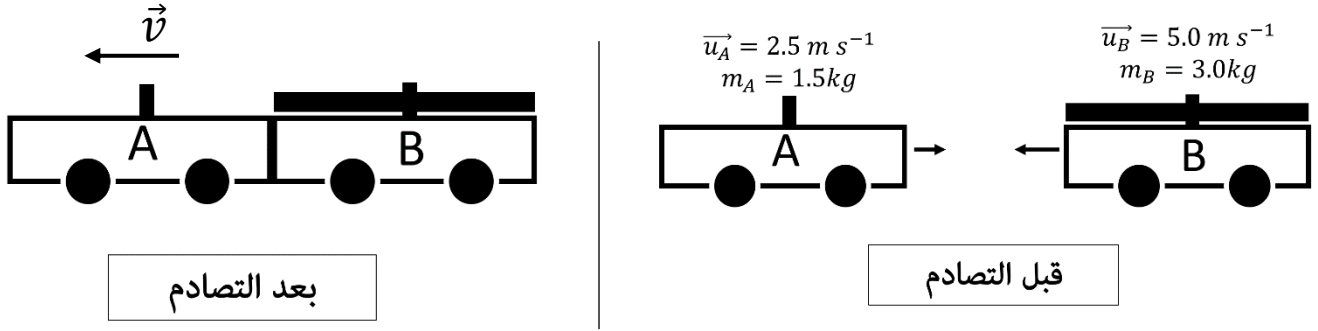
- أ) علل: لا يمكن اعتبار كمية التحرك للدراجين متساوية. الشكل (١-٢) [١] ( )

ب) احسب كمية التحرك للدراجة A إذا علمت أن كتلتها (275kg) ، مع ذكر وحدة قياسها.

[٣] ( )  $\vec{P} =$  \_\_\_\_\_



٣. الشكل (١-٣) يوضح عربتين (A و B) قبل التصادم وبعد التصادم في نظام مغلق.



الشكل (١-٣)

[٢] ( )

احسب سرعة العربتين بعد التصادم

٤. الجدول (١-٤) يعرض تصادم حدث بين كرتين (G و H) في نظام مغلق.

G	H	الكرة
+3	-12	السرعة قبل التصادم ( $m s^{-1}$ )
-9	+6	السرعة بعد التصادم ( $m s^{-1}$ )

ملاحظة (+ تعني الاتجاه نحو اليمين، - تعني الاتجاه نحو اليسار)

الجدول (١-٤)

[٢] ( )

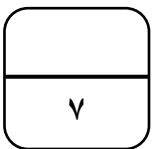
أ) اذكر خاصيتين تميز التصادم المرن عن التصادم الغير مرن

-١

-٢

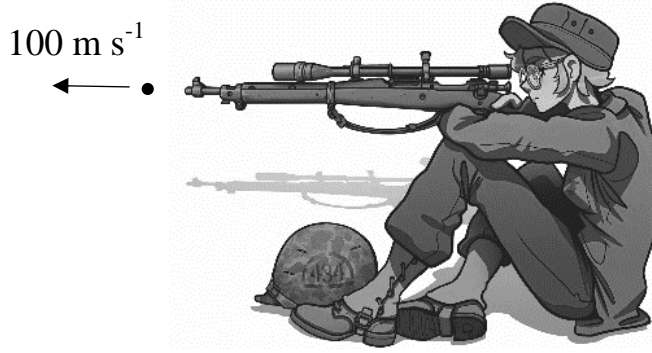
ب) اثبت رياضيا أن التصادم تام المرونة.

[٣] ( )



٥. الشكل (١-٥) يوضح قناص يمسك بندقية كتلتها مع الرصاصة (3.582Kg) يثبتها القناص على كتفه وعندما يضغط القناص على الزناد تخرج منه أفقياً للأمام رصاصة كتلتها (0.15 Kg).

D ← → C



الشكل (١-٥)

أ) احسب القوة التي أثرت على الرصاصة إذا علمت أن فترة تأثير القوة استمرت (0.3s).

---

---

---

---

---

---

( ) [٣]  $\vec{F} =$  \_\_\_\_\_ N

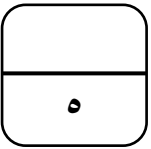
ب) فسر القناص يتأثر بقوة في الاتجاه (C) لحظة اطلاق الرصاصة.

---

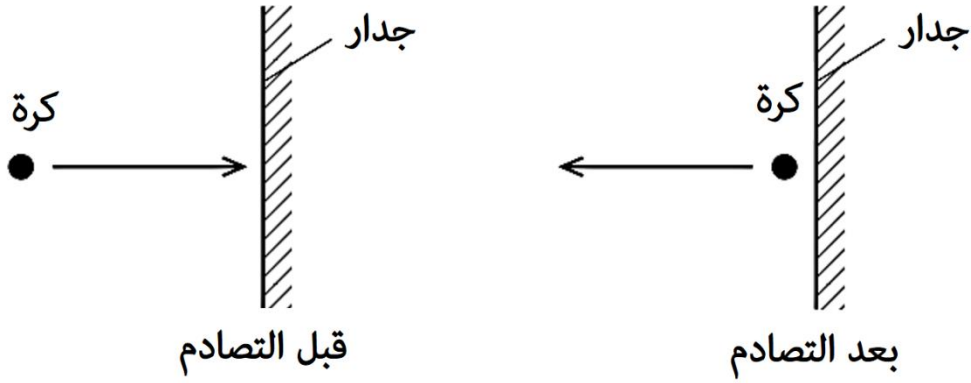
---

---

( ) [٢] \_\_\_\_\_



٦. الشكل (١-٦) " نظام مغلق تصطدم كرة بجدار فتردد في نفس مسارها السابق بالسرعة نفسها "



الشكل (١-٦)

اشرح كيف تكون كمية التحرك محفوظة في هذه الحالة.

( ) [٧]


٩.

أ- عرف الازاحة الزاوية

( ) [٧]

ب- الشكل (١-٧) يوضح طاحونة بها ٤ أذرع موزعة على أبعاد متساوية تتحرك حركة دائرية منتظمة.

ما الخيار الصحيح لقيمة الزاوية بين كل ذراعين متتاليين؟ ( ظلل الإجابة الصحيحة ) [٧]



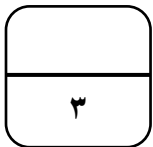
الشكل (١-٧)

$\pi$

$\frac{\pi}{2}$

$2\pi$

$\frac{\pi}{4}$



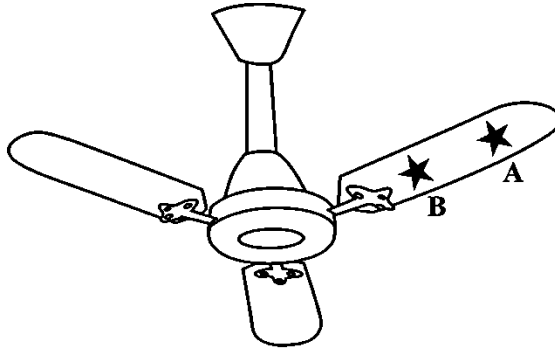
( ) [١]

٨. عرف السرعة الزاوية:

---

---

٩. الشكل (٩-١) يوضح مروحة سقف تدور (800 دورة كل دقيقتين)، ثبت عليها نجوم للزينة حيث وضعت النجمة B على بعد r والنجمة A على بعد 2r عن مركز دوران المروحة.



الشكل (٩-١)

أ) فسر النجمة (A) تتحرك بسرعة خطية أكبر.

---

---

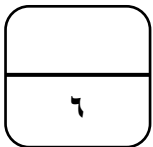
( ) [٢]

ب) احسب السرعة الزاوية للمروحة مع ذكر وحدة قياسها.

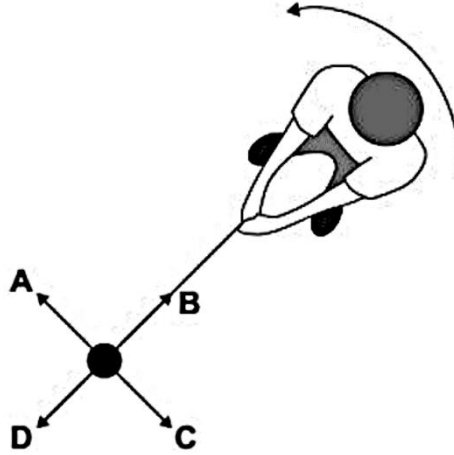
---

---

( ) [٣]  $\omega =$  \_\_\_\_\_



١٠. الشكل (١-١٠) يوضح منظر علوي لرياضي في رياضة رمي المطرقة يقوم بتدوير كرة كتلتها (0.6kg) مربوطة بسلسلة في مسار دائري نصف قطره (0.9m) ويكمل دورة كل (0.75s).



الشكل (١-١٠)

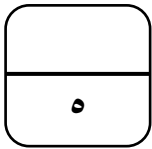
أ) احسب القوة المركزية مع تحديد الرمز (A, B, C, D) الذي يشير إلى اتجاهها.

$F = \underline{\hspace{2cm}} \text{ N}$

رمز اتجاه القوة المركزية [٤] ( )

ب) فسر عندما يحاول الرياضي زيادة سرعة الكرة فإنه يبذل قوة أكبر للامساك بالسلسلة.

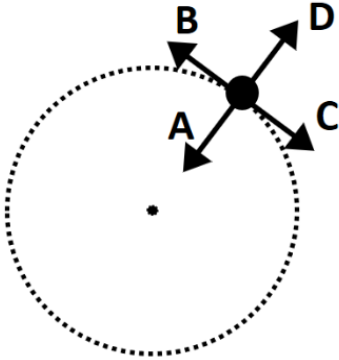
[١] ( )



٢٠٢٢/٢٠٢٣م

١١. الشكل (١-١١) يوضح مسار لجسم يتحرك حركة دائرية منتظمة مع عقارب الساعة.

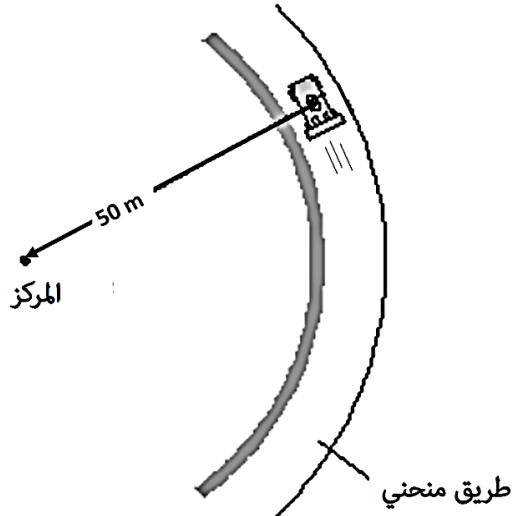
أي الخيارات تصف السرعة المتجهة الخطية والتسارع المركزي للجسم؟ (ظلل الإجابة الصحيحة) [١] ( )



التسارع المركزي	السرعة المتجهة الخطية	
A	B	<input type="checkbox"/>
D	B	<input type="checkbox"/>
D	C	<input type="checkbox"/>
A	C	<input type="checkbox"/>

الشكل (١-١١)

١٢. الشكل (١-١٢) يوضح سيارة تتحرك بسرعة ثابتة في منعطف دائري فتقطع (157m) منه خلال (8.0s).

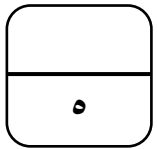


الشكل (١-١٢)

أ) ما مصدر القوة المركزية التي

[١] ( )

ب) احسب التسارع المركزي للسيارة أثناء دورانها.



[٣] ( )

$a = \text{_____} \text{ m s}^{-2}$



١٣. ما المصطلح العلمي الدال على (المسافة والاتجاه المحددان من موضع الاتزان إلى موضع الجسم المهتز عند أي لحظة في الاهتزازة)؟

( ) [١] (ظلل الإجابة الصحيحة)

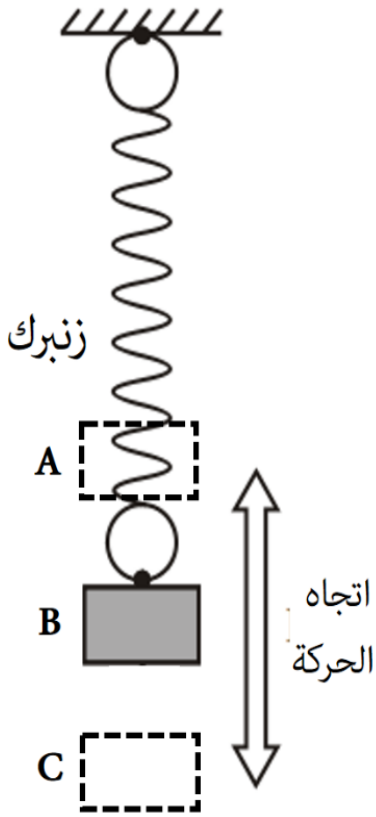
الإزاحة

فرق الطور

الزمن الدوري

السرعة

١٤. الشكل (١٤-١) يوضح ثقل معلق في زنبرك يتحرك بين كل المواضع (A و B و C) حركة توافقية بسيطة بتردد (3Hz).



(أ) حدد المواضع التي تكون فيها قوة الإرجاع أكبر ما يمكن:

\_\_\_\_\_

\_\_\_\_\_ [٢] ( ) .

(ب) احسب سعة الاهتزاز إذا علمت أن أقصى قيمة لتسارع الثقل  $(142.5 \text{ m s}^{-2})$ .

\_\_\_\_\_

\_\_\_\_\_

\_\_\_\_\_

\_\_\_\_\_

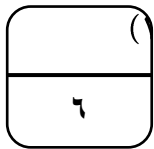
\_\_\_\_\_

\_\_\_\_\_

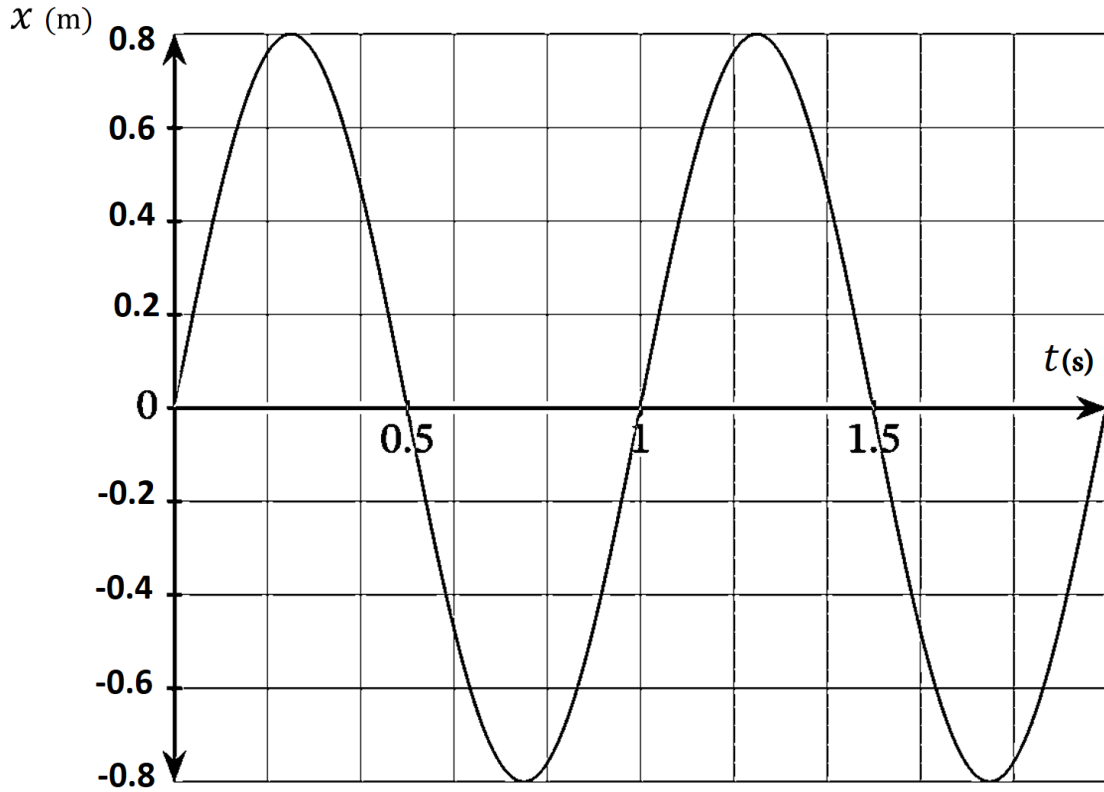
\_\_\_\_\_

( ) [٣] x= \_\_\_\_\_(m)

الشكل (١٤-١)



١٥. الشكل (١٥-١) يبين كيف تتغير إزاحة جسم ( $x$ ) خلال الزمن ( $t$ ) في استقصاء للحركة التوافقية البسيطة لبندول ما.



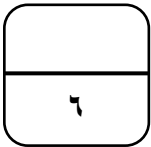
(أ) وضح العلاقة بين التسارع والإزاحة عن موضع الاتزان للجسم المهتز.

( ) [٢]

(ب) احسب سرعة الجسم عند (1.2 s)، باستخدام المعادلة ( $v = v_0 \cos(\omega t)$ ).

( ) [٤]

$v =$  \_\_\_\_\_  $\text{ms}^{-1}$



١٦. جسم يتحرك حركة توافقية بسيطة بحيث تكون العلاقة بين تسارعه (a) وإزاحته عن موضع الإلتزان (x) وفق المعادلة التالية:

$$a = -\pi x$$

[١] ( )

أي الخيارات تعبر عن التردد الزاوي للجسم بوحدة (rad s<sup>-1</sup>)؟

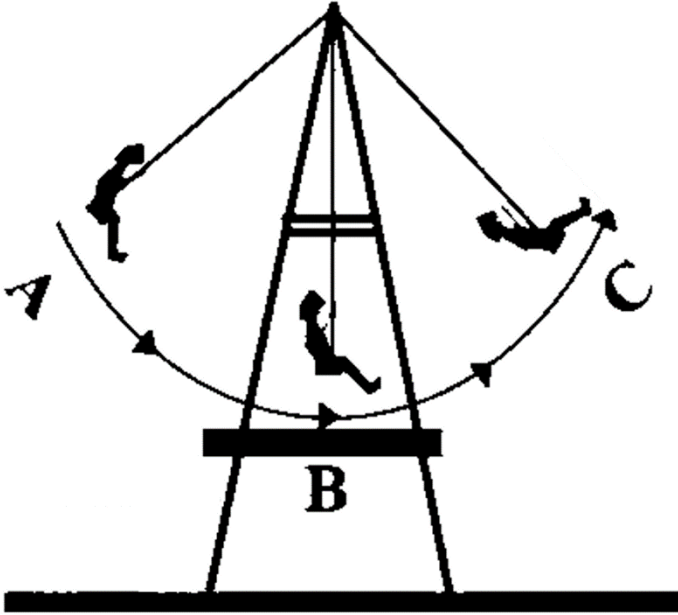
$\sqrt{\pi}$

$\pi$

$2\pi$

$\frac{\pi}{2}$

١٧. الشكل (١٧-١) يبين فتاه كتلتها (32kg) تتأرجح في أرجوحة ابتداء من الموضع (A) ثم (B) ثم (C) بحركة مماثلة للحركة التوافقية البسيطة وتكمل هزة واحدة خلال (2s).



(أ) حدد رمز الموضع الذي تكسب فيه الفتاه: [٢] ( )

- طاقة حركة عظمى \_\_\_\_\_

- طاقة وضع عظمى \_\_\_\_\_

(ب) احسب طاقة الحركة العظمى التي اكتسبتها الفتاه أثناء تأرجحها، إذا علمت أن سعة الاهتزازة (1.5 m). الشكل (١٧-١)

---

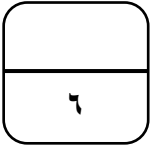


---

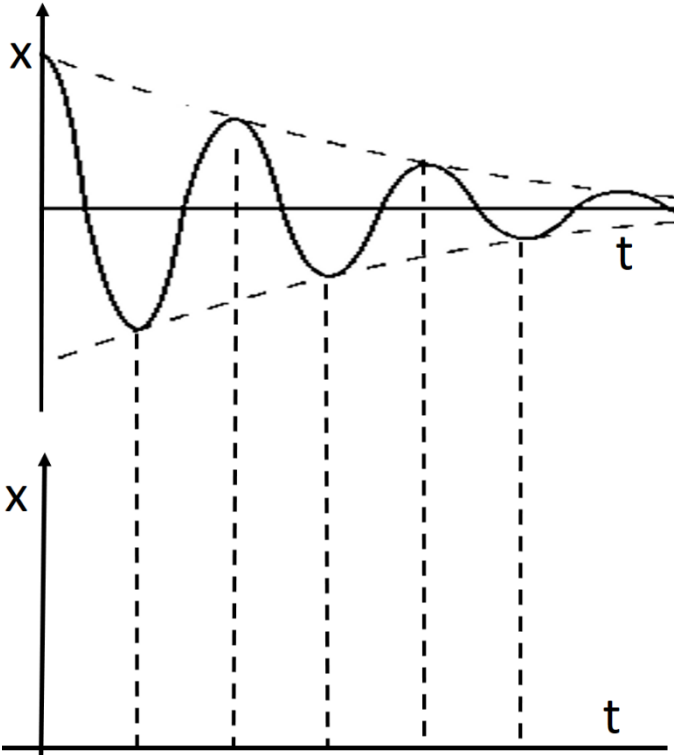


---

\_\_\_\_\_ J  $KE_0 =$  [٣] ( )



١٨. الشكل (١-١٨) يوضح الازاحة خلال الزمن لأحد الاهتزازات المخمدة تخميد ضعيف.



الشكل (١-١٨)

(أ) فسر سبب تناقص سعة الاهتزازة مع مرور الزمن.

---



---



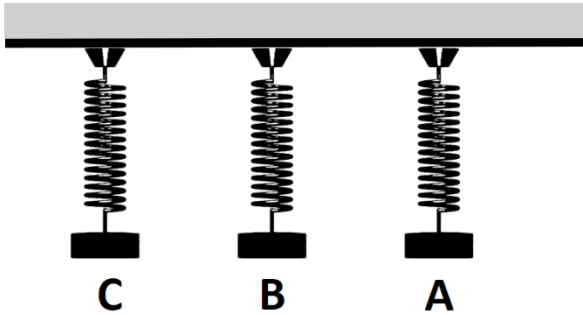
---

( ) [٢]

(ب) ارسم في الشكل (١-١٨) كيف تتغير إزاحة الاهتزازات خلال الزمن للجسم عند تزويده بتخميد حرج.

( ) [١]

١٩. الشكل (١-١٩) يوضح ثلاث زنبركات مختلفة (A و B و C) علق في مختبر أحد المدارس، تعرضت المدرسة لزلزال فلو حظ أن الزنبرك C اهتز بأقصى سعة ممكنة.



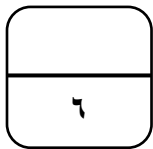
الشكل (١-١٩)

(أ) ما الظاهرة التي حدثت لزنبرك C ؟

( ) [١]

(ب) فسر سبب اهتزاز C بأقصى سعة ممكنة.

( ) [٢]



— انتهت الأسئلة —

القوانين والثوابت

القوانين		
القوانين	الوحدة	م
$\Delta \vec{P} = m \Delta \vec{v}$ $\vec{F} = \frac{\Delta \vec{P}}{\Delta t}$ $\vec{F}_A = -\vec{F}_B$	$\vec{P} = m\vec{v}$ $\vec{P}_{\text{قبل التصادم}} = \vec{P}_{\text{بعد التصادم}}$ $\vec{v}_{\text{النسبية}} = \vec{v}_2 - \vec{v}_1$ $KE = \frac{1}{2}mv^2$	١ كمية التحرك
$a = \omega v = \omega^2 r = \frac{v^2}{r}$ $F = m\vec{a}$	$\vec{v} = \omega r$ $\omega = \frac{\Delta \theta}{\Delta t}$ $\omega = \frac{2\pi}{T}$	٢ الحركة الدائرية
$x = x_0 \sin(\omega t)$ $v = v_0 \cos(\omega t)$ $E_0 = \frac{1}{2}m\omega^2 x_0^2$	$T = \frac{\omega}{2\pi} \quad T = \frac{1}{f}$ $v_0 = \omega x_0$ $a_0 = -\omega^2 x_0$ $a = -a_0 \sin(\omega t)$	٣ الحركة الاهتزازية
الثوابت		
$g=9.81 \text{ m s}^{-2}$		

# المسودة